

3. VÁLTOZAT

I. Feladatok egy helyes megoldással

1. Nevezd meg UKR legkeletibb pontját:

A Milove, Luhanszk megye
B Cservona Zirka, Luhanszk megye
C Szverdlovszk, Luhanszk megye
D Birjukove, Luhanszk megye

A B C D
☐ ☐ ☐ ☐

2. Jelöld meg azokat az országokat, amelyekkel UKR délnyugatról határos:

A Magyarország, Lengyelország
B Bulgária, Moldova
C Moldova, Románia
D Szlovákia, Oroszország

A B C D
☐ ☐ ☐ ☐

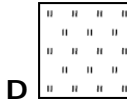
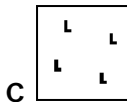

3. Jelöld meg, ki írt könyvet „Ukrajna leírása” címmel:

A Klaudiusz Ptolemaiosz **C** Guillaume de Bonpland
B Sztrabón **D** idősebb Plinius

A B C D
☐ ☐ ☐ ☐

4. Válaszd ki, milyen egyezményes jellel ábrázolják a topográfiai térképeken az erdőirtást:

A B C D
☐ ☐ ☐ ☐



5. Jelöljétek meg, mely variánsban van helyesen bejelölve a geológiai korok sorrendje:

A B C D
☐ ☐ ☐ ☐

A

...
kainozoikum
mezozoikum
archaikum
paleozoikum
...

B

...
mezozoikum
paleozoikum
proterozoikum
kainozoikum
...

C

...
archaikum
proterozoikum
paleozoikum
mezozoikum
...

D

...
paleozoikum
archaikum
mezozoikum
proterozoikum
...

6. Jelöld meg, mikor lett kikiáltva Ukrajna függetlensége:

A 1917-ben **C** 1945-ben
B 1991-ben **D** 1922-ben

A B C D
☐ ☐ ☐ ☐

7. Mely tengerek vize mossa Ukrajna területét?

A Fekete és Balti **C** Fekete és Azovi
B Márvány és Fehér **D** Adriai és Földközi

A B C D
☐ ☐ ☐ ☐

8. Jelöld be annak az ismert tudósnek a nevét, aki talajkutatással foglalkozott Ukrajnában:

A Volodimir Vernadszkij

C Olekszandr Vojejkov

A B C D

B Vaszil Dokucsajev

D Pavlo Tutkovszkij

--	--	--	--

9. Jelöld meg, Ukrajna területének milyen részarányát foglalják el alföldek:

A 50 %

C 90 %

A B C D

B 70 %

D 10 %

--	--	--	--

10. Határozd meg, milyen méretarányú térképen foglal el a park 1 cm² területet, ha egy másik térképen, amelynek a méretaránya 1 : 10 000, 25 cm² a területe:

A 1 : 100 000

C 1 : 25 000

A B C D

B 1 : 50 000

D 1 : 250 000

--	--	--	--

11. Jelöld meg azt a város csoportot, amelyben a városok a gyógyhatású ásványvízforrások miatt lettek ismert gyógyüdülőhelyek:

A Berdicsiv, Hmilnik, Rivne

A B C D

B Zsitomir, Harkiv, Szumi

--	--	--	--

C Donyeck, Szimferopol, Umanj

D Truszkavec, Mirhorod, Szolyva

12. Válaszd ki, melyik változatban vannak felsorolva azok a megyék, melyek határosak egymással:

A Lviv, Kárpátalja, Odesza megyék

A B C D

B Herszon, Mikolajiv, Kijev megyék

--	--	--	--

C Cserkaszi, Harkiv, Luhanszk megyék

D Voliny, Rivne, Lviv megyék

13. Válaszd ki a helyes láncolatot

„ipar – termék – telepítési tényező” tekintetében:

A B C D

A vegyipar – műtrágya – fogyasztó

--	--	--	--

B építőipar – ház – tudomány

C élelmiszeripar – makaróni – szakképzett munkaerő

D mezőgazdaság – rizstermesztés – tudomány

14. Jelöld meg a gazdasági körzetnek és szakosodásának helyes kapcsolatát:

A Fővárosi – gabonatermesztés

B Északnyugati – gyógyszeripar

A B C D

C Dnyepermelléki – baromfitenyésztés

--	--	--	--

D Donyeci – tüzelőanyag-energetika

15. Jelöld meg, milyen tényezők hatása alatt alakult ki Ukrajnai jelenkori domborzata:

A endogén és exogén

C szél és víz

A B C D

B gleccser és víz

D vulkanizmus és gravitáció

--	--	--	--

16. Válaszd ki az alább felsorolt városokból, melyek az állami alárendeltségűek:

A Kijev és Szimferopol

C Szimferopol és Ungvár

B Harkiv és Lviv

D Szevasztopol és Kijev

A B C D

--	--	--	--

17. Jelöld meg, melyik éghajlati övben helyezkedik el Ukrajna jelentős része:

A arktikus

C mérsékelt

B szubarktikus

D szubtrópusi

A B C D

--	--	--	--

18. Jelöld meg, melyik talajtípus jellemző a Kárpátok hegyvidékére:

A csernozjom

C podzolos-gyeptalaj

B szürke erdei

D barna erdei

A B C D

--	--	--	--

19. Jelöld meg azt a gazdasági körzetet, melyre jellemző zömében a gépgyártás és fémfeldolgozás, vegyipar, tüzelőanyag-ipar, erdő- és fafeldolgozás, könnyű- és élelmiszeripar, sokágazatú mezőgazdaság:

A Kárpáti

C Donyeci

B Fekete-tengermelléki

D Északkeleti

A B C D

--	--	--	--

20. Válaszd ki a helytelen állítást:

A Ukrajnában a teherforgalom nagy része a vasútra esik

B a közúton szállított teherárú gazdaságossága növekedik a távolsággal

C a legolcsóbb szállítási közlekedési eszköz a vízi

D a legnagyobb személyforgalom a közúti közlekedésre esik

A B C D

--	--	--	--

II. Feladatok megfelelő párosításra

A 21–25. feladatoknál mindegyik számmal jelölt feladathoz egy betűvel jelzett helyes válasz tartozik. A helyes párosítás-válaszokat jelöljétek a feladatok melletti táblázatokba.

21. Párosítsd a természetvédelmi objektumokat a természetföldrajzi egységekkel, amelyekben található:

1 Nárciszok-völgye

2 Cseremszki természetvédelmi terület

3 „Mihájli-völgy-szűzföld” (ugar)

4 „Martyján-fok” természetvédelmi terület

A vegyes és lomlevelű erdők

B sztyepp

C Ukrán-Kárpátok

D Krími-hegység

E erdőssztyepp

A B C D E

1					
---	--	--	--	--	--

2					
---	--	--	--	--	--

3					
---	--	--	--	--	--

4					
---	--	--	--	--	--

22. Párosítsd a tektonikai szerkezeteket a domborzatformákkal:

- 1 Kelet-európai-tábla
 - 2 Voliny-podóliai-lemez
 - 3 Szkíta-tábla
 - 4 Mediterrán mozgékony öv
- A Síkvidéki-Krím
B Kárpátok, Krími-hegyek
C Dnyepermelléki-hátság
D Volinyi-hátság
E Doneci-tönkhegység

	A	B	C	D	E
1					
2					
3					
4					

23. Párosítsd a városokat az ott élő lakosság számával (a 2001-es népszámlálási adatok alapján):

- 1 Lviv
 - 2 Dnyipropetrovsk
 - 3 Kirovohrad
 - 4 Ungvár
- A 260 ezer fő
B 117 ezer fő
C 760 ezer fő
D 1080 ezer fő
E 57 ezer fő

	A	B	C	D	E
1					
2					
3					
4					

24. Párosítsd a közlekedési gépeket gyártási központjaikkal:

- 1 repülő
 - 2 autóbuszok
 - 3 vagonok
 - 4 mozdonyok
- A Dnyiprodzerzsinszk
B Lviv
C Kijev
D Poltava
E Luhanszk

	A	B	C	D	E
1					
2					
3					
4					

25. Párosítsd a kereskedelmi márkákat az élelmiszeripari központokkal:

- 1 «Szvítocs»
 - 2 «Szandora»
 - 3 «Roshen»
 - 4 «Olejna»
- A Dnyipropetrovsk
B Mikolajiv
C Kijev
D Szimferopol
E Lviv

	A	B	C	D	E
1					
2					
3					
4					

III. Feladatok három helyes válasszal

A 26–28. feladatok hét választ tartalmaznak, amelyből csak **HÁROM** helyes! A három helyes válasz számát írd a feladatok melletti táblázatokba. (A sorrend nem számít!)

26. Válassz ki három országot, amelyben jelentős ukrán diaszpóra él:

- 1 Litvánia
- 2 Magyarország
- 3 Lengyelország
- 4 Oroszország
- 5 Németország
- 6 Kazahsztán
- 7 Bulgária

--	--	--

1 Kanyivi	5 Cservonooszkili
2 Bugi	6 Kahovkai
3 Dnyeszteri	7 Ladizsini
4 Kremencsuki	

1	2	3
4	5	6
7	8	9
10	11	12
13	14	15

1 Odesza	5 Liszicsanszk
2 Konotop	6 Jalta
3 Csernyihiv	7 Ungvár
4 Kosztyantinyivka	


1	2	3
4	5	6
7	8	9
10	11	12
13	14	15

A 29–31. feladatokra részletes választ kell adni, írásban.

30. Rajzold le Ukrajna népgazdaságának ágazati szerkezetét!

31*. Magyarázd el milyen elvek alapján helyezik el a különböző típusú villamos-erőműveket (hagymányos és alternatív)! Hozz fel példákat!

This image shows a single sheet of white paper with horizontal blue or grey ruling lines. The lines are evenly spaced and run across the width of the page. There are no margins, text, or other markings on the paper.



A 32. feladat térképészeti jellegű; azokat az információkat (a hozzá tartozó egyezményes jelekkel) kell feltüntetni, amelyeket a feladat említ (a térképre csak azzal a színű tollal lehet az információkat és az egyezményes jeleket feltüntetni, amelyet a teszt megírása során használt a tanuló!).

32. Tüntesd fel a vázlattérképen Ukrajna azon régióit, amelyekben a legjelentősebb az ipari növények termesztése (hosszúszálú len, cukorrépa, napraforgó, komló, levendula).

